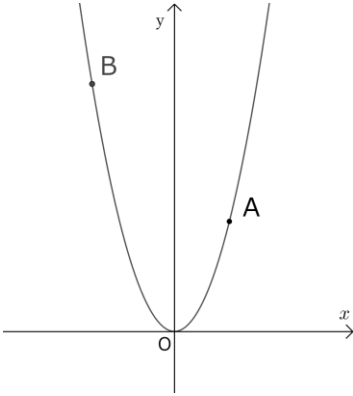


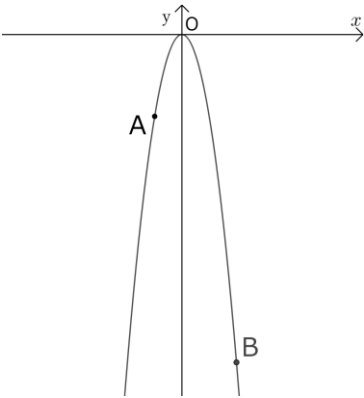
## グラフの式、座標を求める

**1**  $y$ が $x$ の2乗に比例するグラフ上の点Aと点Bが次の条件を満たすとき、点Bの座標を求めなさい。

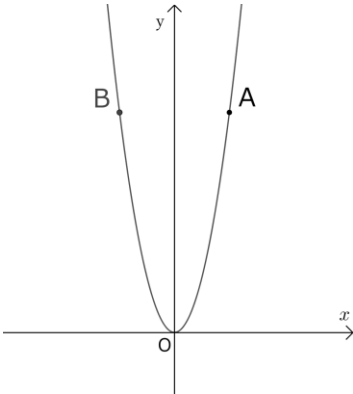
① A(2,4)、Bの $x$ 座標が-3



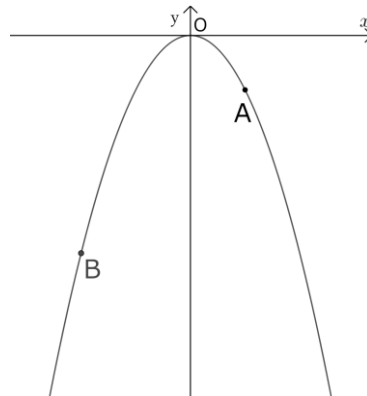
② A(-1,-3)、Bの $x$ 座標が2



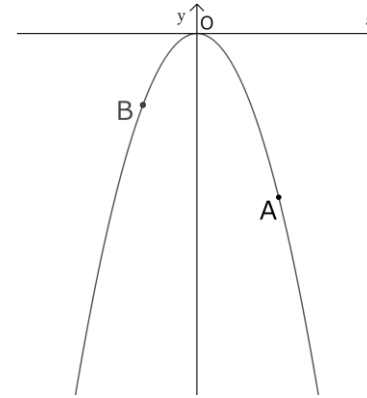
③ A(2,8)、Bの $x$ 座標が-2



④ A(2,-2)、Bの $x$ 座標が-4



⑤ A(3,-6)、Bの $x$ 座標が-2



⑥ A(3,6)、Bの $x$ 座標が-4

